

GWEITHDREFNOL

6CG14

Enw cyntaf _____

Cyfenw _____

Ysgol _____

Dosbarth _____

Dyddiad geni

Dyddiad y prawf

Cyfanswm y sgôr (uchafswm 35)



1 Adiwch 76 a 34

2 $9 \times 7 =$

$6 \times$ $= 72$

3 Rhowch gylch o amgylch y rhif lle mae'r 4 yn cynrychioli **4 o ddegau**.

40 008

6043

7431

9054

14 568

Nawr ticiwch (✓) y rhif lle mae'r 4 yn cynrychioli **4 o filoedd**.

40 008


6043

7431

9054

14 568

4 Mesurwch hyd y llinell hon.



Rhowch eich ateb mewn **cm**.

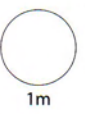
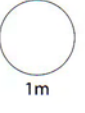
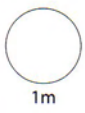
Nawr rhowch eich ateb mewn **mm**.

5 Mae gan Cerys 600 o farblis.

Mae'n eu rhannu'n gyfartal rhwng 20 o bobl.

Faint o farblis mae pob person yn eu cael?

6 Tynnwch 4.3 o 13.1



7

Y pellter mewn milltiroedd ar hyd y ffordd rhwng lleoedd yng Nghymru

	Bangor	Caerfyrddin	Abertawe	Y Rhyl
Bangor		133	159	31
Caerfyrddin	133		28	136
Abertawe	159	28		173
Y Rhyl	31	136	173	

Pa ddau le yw'r **pellaf** oddi wrth ei gilydd?

a

Mae Mr Jones yn gyrru o **Gaerfyrddin** i **Abertawe**.

Wedyn, mae'n gyrru o **Abertawe** i **Fangor**.

Faint o filltiroedd mae'n eu gyrru i gyd?

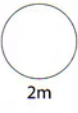
 o filltiroedd

8

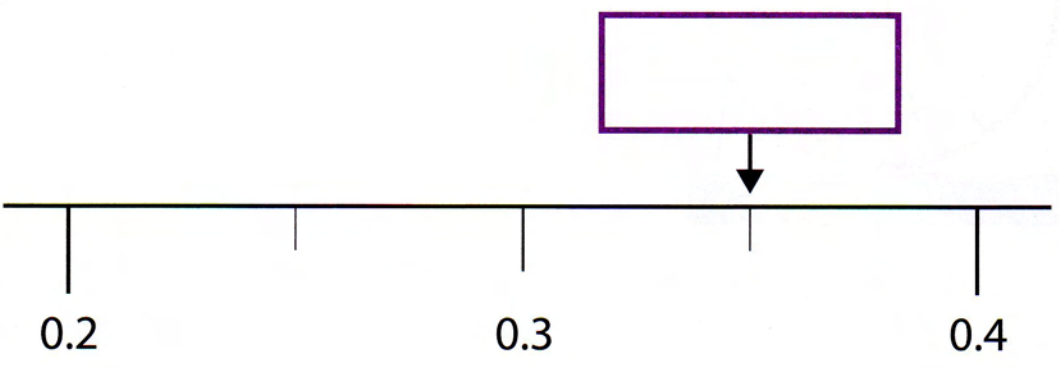
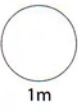
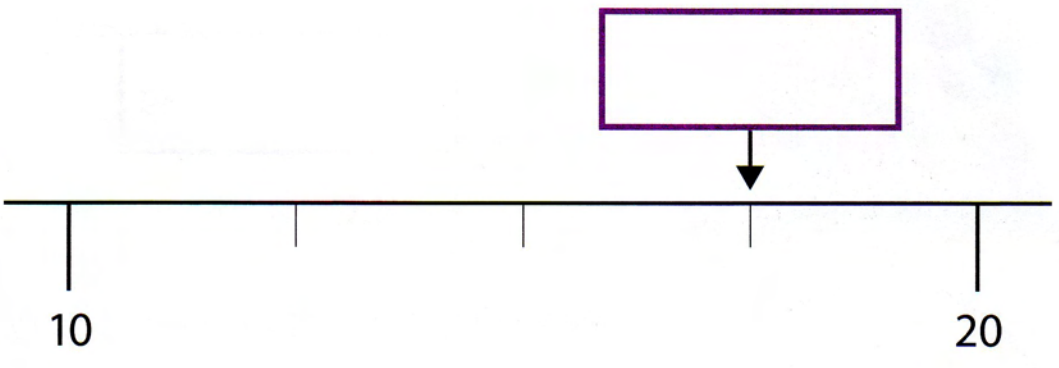
Beth yw $\frac{3}{5}$ o 60?

9 Cwblhewch y tabl gan ddefnyddio'r cloc **24-awr**.

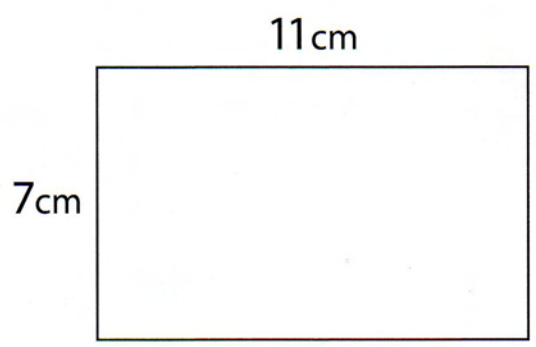
Hanner awr wedi chwech	Bore	06:30
Chwarter wedi deg	Bore	
Hanner awr wedi pedwar	Prynhawn	
Chwarter i wyth	Gyda'r nos	



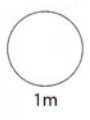
10 At ba rifau mae'r saethau'n pwyntio?




11 Beth yw **arwynebedd** y petryal hwn?



cm²

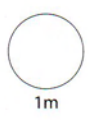


12



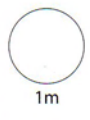
Mae'r bag o datws yn pwyso

kg



Mewn cilogramau a gramau, mae hyn yn

kg a g

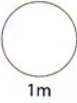


13 Mae athro'n dweud:

Meddyliwch am rif.
Lluoswch y rhif â 2,
wedyn adiwch 6

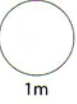
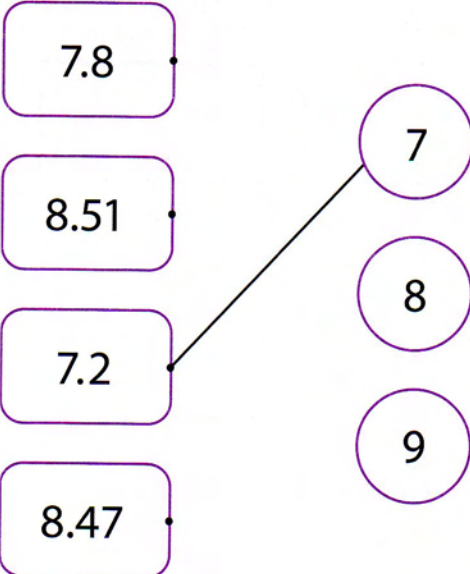
Ateb Ellie yw 16

Pa rif roedd Ellie'n meddwl amdano?



14 **Talgrynnwch** bob degolyn i'r rhif cyfan agosaf.

Mae un wedi'i wneud i chi.



15 Cwblhewch y tabl.

**Y tymheredd yn Abertawe ac yn Sydney
un diwrnod fis Rhagfyr diwethaf**

	Abertawe	Sydney	Y gwahaniaeth rhwng y tymheredd
Y tymheredd yn ystod y dydd	-1°C	25°C	$^{\circ}\text{C}$
Y tymheredd yn ystod y nos	$^{\circ}\text{C}$	18°C	21°C

16 Ysgrifennwch yr hydroedd hyn yn eu trefn.

50 milltir

50 cm

50 km

50 modfedd

y byrraf

yr hiraf

17 Rhannwch 3015 â 15

18 Cwblhewch y tabl ffracsiynau, degolion a chanrannau hwn.

Ysgrifennwch y ffracsiwn mor syml â phosibl.

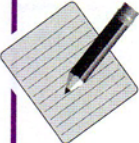
Ffracsiwn	Degolyn	Canran
$\frac{1}{4}$	0.25	25%
		60%
$\frac{1}{20}$		%

2m

19 Mae'r rhifau ar y bocsys yn dangos faint o fatsys sydd ym mhob boc.



Beth yw nifer **cymedrig** y matsys.



o fatsys

2m

CYFANSWM
8m

Rysáit crempog

2 wy

200 gram o flawd

$\frac{1}{2}$ litr o laeth

Mae Owen yn gwneud crempogau ac yn defnyddio 5 wy.

Mae angen gram o flawd a litr o laeth arno.

Siop Esgidiau Mawr




Roedden nhw'n £10
Nawr gostyngiad
o 25%

Siop Traed Hapus



Roedden nhw'n £12
Nawr gostyngiad
o $\frac{1}{3}$

Yn mha siop mae'r esgidiau glaw rhataf, a faint yn rhatach ydyn nhw?

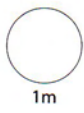
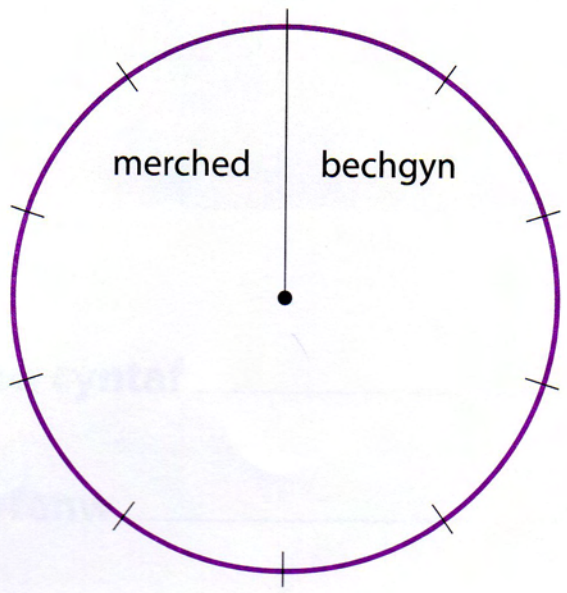


Maen nhw yn rhatach yn siop

22 Yn nosbarth 6K, y gymhareb **merched** i **fechgyn** yw 2 : 3

Cwblhewch y siart cylch i ddangos y gymhareb.

Plant yn nosbarth 6K



23 Gwariodd Gethin £12 ar ddefnydd i wneud bagiau.

Mae'n gwneud 20 o fagiau ac yn eu gwerthu nhw i gyd am £1.75 yr un.

Faint o **elw** mae'n ei wneud i gyd?

£

